

高雄市立陽明國中 107 學年度第 2 學期第 2 次段考一年級社會科試題

選擇題：

1. 金田二在一本書上讀到：「此時，政府視教育為同化臺灣人的重要手段，因此在臺灣實施西式教育。初等教育以六年制的學校為主軸，取代原先傳統的儒學、書院等，對日後教育發展有著深遠的影響。」讀完這段敘述後，金田二順手寫出下列幾個學校名稱，請問哪一個不符合文中所述時期？ (A)西學堂 (B)小學校 (C)公學校 (D)蕃童教育所。
2. 西元 2015 年臺灣南部地區爆發嚴重登革熱疫情，地方政府加強公共衛生，以防止疫情持續擴張。在日治時期為防治熱帶傳染病，總督府也加強宣導臺灣的公共衛生，針對此目標所採取的措施不包括下列哪一項？ (A)建立自來水系統 (B)定期實施環境清潔、防疫注射 (C)建立公共醫院 (D)全面禁止吸食鴉片。
3. 下圖(一)為《臺灣日日新報》1935 年報紙的標題，這場選舉雖然只是選出市、街、庄議員，且選舉人也有資格限制，但民眾參與熱烈，投票率高達 95%。請問這場選舉主要是哪個政治團體努力的成果？ (A)臺灣民眾黨 (B)臺灣議會設置請願運動 (C)臺灣地方自治聯盟 (D)臺灣省行政長官公署。



圖(一)

4. 蔡阿信，臺灣近代第一位受到完整現代醫學訓練的女醫師，她留學於日本。1921 年蔡阿信學成返臺，回臺當天許多記者前來基隆港，採訪這位臺灣第一個日本科班出身的女醫師。隔天報紙斗大的標題寫著「萬綠叢中一點紅」來形容這位女醫師，連她從日本穿回臺灣的衣服，不久也有幾家成衣店仿做出售，在街上流行了起來。請問蔡阿信的故事反映出何種史實？ (A)臺灣女性僅能讀到公學校畢業 (B)臺灣人升學不易，多數選擇出國留學 (C)臺灣女性無法在臺就學 (D)臺灣未設立醫學校。
5. 鑑於日本殖民教育的不公平，林獻堂、林烈堂、蔡蓮舫、林熊徵、辜顯榮等臺灣士紳合資，向臺灣總督府申請設立專門給臺灣子弟就讀的中學校，並於 1915 年(大正四年)創校。請問若要參觀這所學校，應該前往下圖(二)何處？ (A)甲 (B)乙 (C)丙 (D)丁。



圖(二)



圖(三)

6. 兩光勘吉穿越時空回到日治時期的臺灣，他藉這機會到處旅行，趁機欣賞當時臺灣的各地風貌。請問他會遇到下列何種情況？ (A)臺南地方法院審理判決 (B)高雄搭乘捷運遊玩 (C)搭鐵路全臺環島旅行 (D)去臺灣省政府參加國慶典禮。
7. 櫻桃大丸子看到學校校友的畢業證書如上圖(三)，可得知當時的政府正在推動什麼政策？ (A)無方針主義時期 (B)內地延長主義時期 (C)皇民化運動時期 (D)國共內戰。

- 8.日治初期，總督府歸納臺灣三大陋習是造成文化落後的主因，請問下列何者不包括在內？ (A)辮髮 (B)纏足 (C)吸鴉片 (D)械鬥。
- 9.口述歷史訪問吳爺爺，爺爺回憶過去說：「看著隔壁太太騎著單車載著大把鈔票出門，閒聊之下才得知她正要去市場買菜。聊著聊著大家都既無奈又憤慨，近一年以來，米價漲了快四百倍，全臺一堆人失業，連擺在家門口的單車還會被沒規矩的阿山騎走，再這樣下去日子都沒法過了。」請問上述情形與何者最為相關？ (A)總督府實施配給制度，造成物價飆漲 (B)國共內戰導致物價上漲 (C)日本資本家惡意炒作民生物資，獲取暴利 (D)戰後臺灣接收日本企業，經濟快速成長。
- 10.多啦K夢和朋友們一起玩桌遊，其中一款遊戲「名人快手」，規則是從牌卡中的提示，最先搶到牌並講出正確答案者，便可獲得該牌卡的積分。多啦K夢看到的卡牌提示如右圖(四)，請問搶到牌的他該正確喊出誰的名字？ (A)林獻堂 (B)陳儀 (C)蔣中正 (D)蔣渭水。
- 11.下表為日治時期臺灣學齡兒童就學率簡表，顯示就學率的增加，與總督府在當時實施何項政策有關？

- 醫生
- 宜蘭人
- 高速公路
- 十元硬幣
- 臺灣第一個合法政黨

圖(四)

西元	臺灣人	日本人
1904年	3.8%	67.7%
1920年	25.1%	98%
1930年	33.1%	98.8%
1943年	71.3%	99.6%

- (A)實施六年義務教育 (B)成立臺北帝國大學 (C)取消差別待遇，實施日臺共學 (D)增設中學校鼓勵臺人就學。
- 12.下文為1921年某社會團體成立大會上的演說詞，請問□□應正確填入何者？
 「我要感謝神明，使我生為臺灣人，因為臺灣人把握世界和平的鎖鑰，世界和平的第一關門，是東洋的和平，以中華民族做日本國民的臺灣人，應具有做日華親善的橋樑的使命，由臺灣人行使這個使命，東洋和平才能確保，世界人類的幸福才能完成。但是負有極大使命的臺灣人，現在患著可憐的病症，而無力可為。這個病是知識的營養不良症。□□為根治臺灣人的病根而設。」
 (A)臺灣議會設置請願運動 (B)臺灣民眾黨 (C)臺灣文化協會 (D)臺灣地方自治聯盟。
- 13.1920年代以後，臺灣人摒棄武裝抗日，改採政治社會運動的方式來制衡臺灣總督府的專制統治。關於這樣的轉變，下列敘述何者正確？ (A)總督府當時對臺灣實施內地延長主義 (B)第二次世界大戰後美國總統提出的民族自決，影響臺籍知識份子 (C)受到第一次世界大戰後民主主義的影響 (D)臺人積極爭取下，使總督府同意設立臺灣議會。
- 14.「水螺」響起，汽笛聲響讓糖廠工人得知趕快開工；「午炮」的鳴放提醒著人們規律作息；火車站也必須設有時鐘以準確報時。請問：這些生活作息的改變都是因為總督府在臺灣推動何種制度？ (A)週休二日 (B)天干地支記日 (C)標準時間制 (D)工廠制度。

※題組：根據下方資料，回答15~17題：

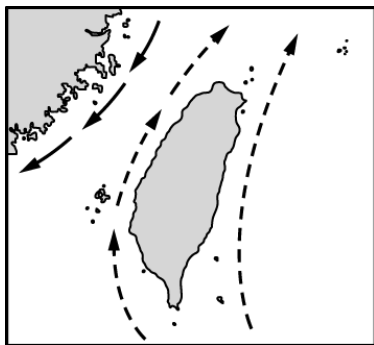
資料一：

2019年是二二八事件的72週年，清明節將屆，但有不少失蹤受難者的家屬，每年都面臨無墓可掃的窘境，失蹤受難者的遺族們追尋真相的訴求與腳步，未曾停歇。「促進轉型正義委員會」於去年5月成立，歷史真相塵封於晦暗之中，失蹤受難者的家屬們至今，仍不斷期待事件的真相能早日釐清。 台北報導 2019-03-29

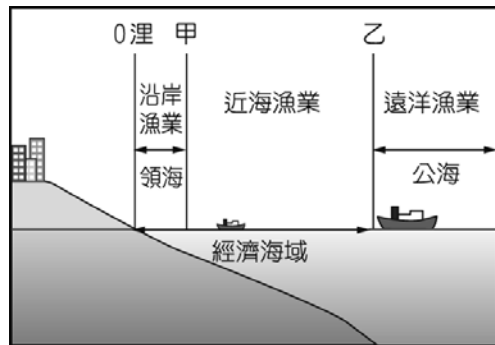
資料二：

軍隊登陸臺灣後，不久就展開無情的掃蕩，甚至在沒有任何司法依據下強行闖入民宅，任意搜捕可疑份子，有好多人被帶走後就回不來了。

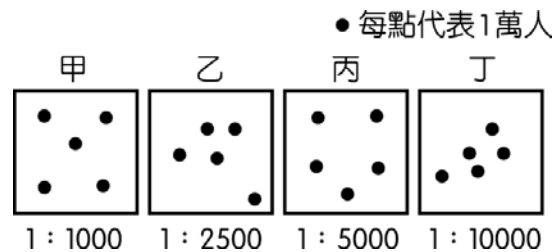
- 15.請問二二八事件的起因為何？ (A)警察、保甲密集監視民眾，引發反彈 (B)民眾罷工、罷市，學生主導學運要求政府改革 (C)陳儀下令戒嚴，有利於行政長官公署管理治臺 (D)官員查緝私菸，處理不當。
- 16.二二八事件發生時的背景包含下列哪些？(甲)官員貪污腐化(乙)語言隔閡(丙)行政長官集大權於身(丁)漸禁鴉片 (A)甲乙丙 (B)乙丙丁 (C)甲丙丁 (D)甲乙丁。
- 17.關於資料二的敘述，所指的政府行動為何？ (A)戶口調查 (B)清鄉 (C)隔離政策 (D)國共內戰。
- 18.陽明國中一年31班的同學利用下課時間討論臺灣漁業的優勢，請問：哪一位同學的說法最正確？ (A)肯泰羅：「三面環海，海岸線很長。」 (B)大蔥鴨：「有暖流(親潮)與寒流(中國沿岸流)交會。」 (C)袋獸：「港灣、島嶼多，利於建設漁港。」 (D)魔牆人偶：「水深300公尺以內的大陸棚地形廣大。」



圖(五)



圖(六)

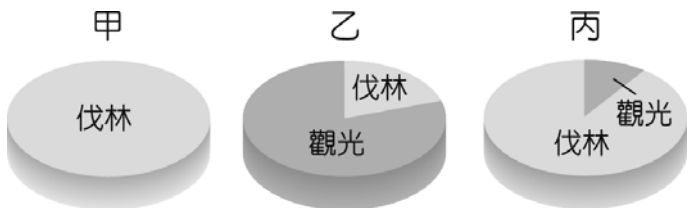


圖(七)

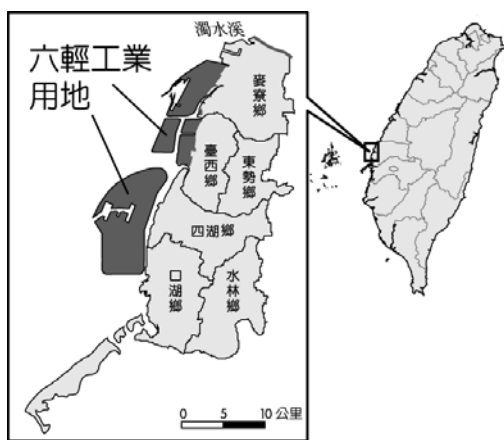
19. 洋流會帶來魚群，有利於漁業活動的進行。上圖(五)為臺灣附近洋流的分布情形。依圖中內容判斷，在下列何處海域最容易因為洋流交會，形成主要的漁場？ (A)東海 (B)太平洋 (C)巴士海峽 (D)臺灣海峽。
20. 上圖(六)為臺灣傳統漁業活動的分布範圍圖，由圖中標示判斷，甲、乙兩點所代表的距離分別為何？ (A) 12 公里；100 公里 (B) 12 公里；200 公里 (C) 12 哩；100 哩 (D) 12 哩；200 哩。
21. 下表是可達鴨針對臺灣漁業問題所整理的表格。請問：哪一項是正確的？

(A)	沿岸漁業	船隻常誤入他國海域，引起糾紛。
(B)	近海漁業	過度捕撈造成漁源枯竭的問題。
(C)	遠洋漁業	超抽地下水造成地層下陷問題。
(D)	養殖漁業	沿海汙染造成漁源枯竭的問題。

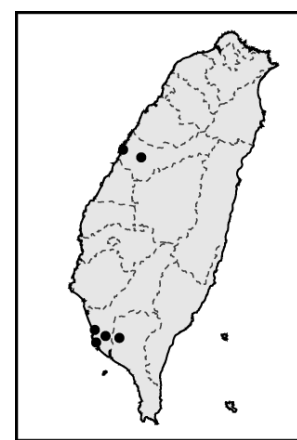
22. 畜牧業的發展受到自然及人文因素的影響，上圖(七)中哪一個地區的畜牧業活動類型最可能為欄牧？ (A)甲 (B)乙 (C)丙 (D)丁。
23. 臺灣近年來積極推廣酪農業，頗具規模的牧場紛紛建立。此種畜牧業近來大力發展的原因為何？ (A)大量外銷賺取外匯 (B)農家閒時的副業 (C)市場需求量增加 (D)山坡地水土保持。
24. 如下圖(八)，下列為臺灣林業資源在不同時期的利用方式。請問：若依發展時間先後順序排列，應該為下列何者？ (A)甲乙丙 (B)甲丙乙 (C)乙丙甲 (D)乙甲丙。



圖(八)



圖(九)



圖(十)

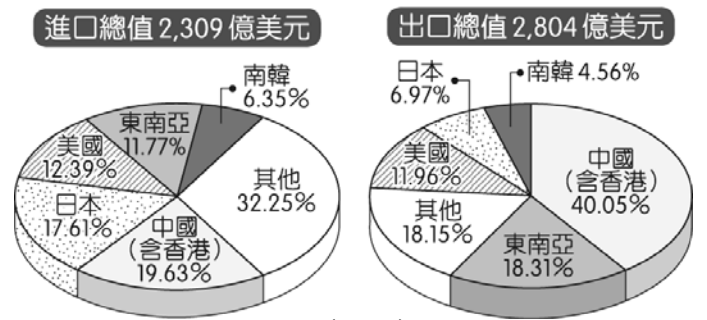
25. 臺灣廠商在面對生產環境改變、市場競爭加劇的情況下，紛紛尋求相關解決方法，若採取生產區位轉移的策略，下表中哪一工廠所做的選擇可有效降低生產成本？ (A)製糖工廠 (B)罐頭工廠 (C)成衣工廠 (D)煉鋁工廠。

工廠	選擇
製糖工廠	移至甘蔗產區
罐頭工廠	移至市場生產
成衣工廠	移至富裕國家
煉鋁工廠	移至鋁礦產區

26. 臺塑六輕為臺灣重要的石化工業區，其分布的地理位置如上圖(九)所示。依圖中資訊判斷，該工業區的設廠位置最有可能是何種區位？ (A)動力 (B)技術 (C)交通 (D)原料。
27. 住在高雄的迷唇姐現年 62 歲，從 15 歲就開始在當地的加工出口區工作，直到結婚才離職。請問：當時她最有可能從事哪一種產業？ (A)紡織業 (B)鋼鐵業 (C)石化業 (D)資訊業。
28. (甲)電子資訊工業 (乙)加工出口工業 (丙)農、林產品加工業 (丁)重工業。依臺灣工業的發展演變過程，上述產業成為主要工業項目的時間先後順序為何？ (A)甲乙丙丁 (B)丙乙丁甲 (C)乙丙丁甲 (D)丙丁乙甲。
29. 上圖(十)為臺灣某工業區的分布位置，依其位置加以判斷，最可能為下列何者？ (A)加工出口區 (B)科技工業園區 (C)石化工業區 (D)水泥工業區。
30. 量販店如「大潤發」和「家樂福」的設立地點多選在都市郊區，其原因有哪些？ (甲)空間較寬廣 (乙)地價較便宜 (丙)人口較眾多 (丁)停車較方便 (戊)地形較平坦 (A)甲乙丙 (B)甲乙丁 (C)乙丁戊 (D)丙丁戊。

31.下表是卡比獸針對各種商業活動所整理的表格。請問：哪一項是正確的？

	商業活動類型	實例
(A)	批發	波波在好市多買了五箱可樂。
(B)	量販	小拉達在 7-11 買了一個國民便當。
(C)	零售	綠毛蟲在果菜市場批了二箱蔬菜。
(D)	無店舖販賣	獨角蟲在 MOMO 購物網買了二件衣服。



圖(十一)

32.如右圖(十一)為民國 105 年臺灣主要的經貿夥伴及其進、出口貿易值比例圖。由圖中可看出臺灣對何地貿易的入超情形最嚴重？

(A)美國 (B)中國 (C)日本 (D)東南亞。

33.請問：臺灣對於國際貿易依賴程度甚高，其原因與下列哪些因素有關？(甲)礦產資源缺乏(乙)疆域面積太小(丙)地勢山多田少(丁)國內消費市場有限 (A)甲乙 (B)乙丙 (C)丙丁 (D)丁甲。

34.右圖(十二)是小喵所看到書上的一段文字，應是下列何種社會規範？ (A)風俗習慣 (B)倫理道德 (C)宗教信仰 (D)法律。

…勿謂暗室可欺，屋漏可愧；一動一靜，神明鑒察；十目十手，理所必至；況報應昭彰，不爽毫髮…

圖(十二)

35.在我國，安靜地咀嚼食物代表禮貌，在日本吃飯時，卻要隨興發出咀嚼與喝湯的聲響，代表對廚師的稱讚。請問：這種吃的文化意義認定的差異，代表下列何種意義？

(A)每個社會依每個人吃飯喝湯的聲音定出地位高低 (B)社會階層的高低會影響文化的呈現方式 (C)種族的優劣影響文化的高低 (D)不同的族群所發展出來的社會規範也會有所差異。

36.右圖(十三)是小可在陽明國中網站上所看到的關於學生校園霸凌行為之法律責任的部份文字，其內容是指下列何種社會規範？ (A)風俗習慣 (B)倫理道德 (C)宗教信仰 (D)法律。

…依刑法第 277 條，傷害人之身體或健康者，處 3 年以下有期徒刑、拘役或 1 千元以下罰金。因而致人於死者，處無期徒刑或 7 年以上有期徒刑；致重傷者，處 3 年以上 10 年以下有期徒刑…

圖(十三)

37.社會規範提供人們行為的準則，關於社會規範的敘述，下列何者正確？

(A)有時在某個社會被允許的行為，會被另一個社會視為違反規範 (B)正式規範經常是非正式規範的基礎 (C)非正式規範之間難以互相影響 (D)應以非正式規範改變不合時宜的正式規範。

38.小敏出生滿週歲後，疼愛小敏的父母舉辦抓週儀式，小敏一抓就抓到口紅，父母於是高興的說，小敏將來一定是耀眼的名模，抓週這種儀式屬下列何種社會規範？ (A)倫理道德 (B)法律規定 (C)風俗習慣 (D)宗教儀式。

39.根據右圖(十四)所示之新聞報導，請問，像這樣的兇嫌即使事後口頭表示懊悔，可能會直接受到下列哪兩種社會規範的處罰與譴責？ (A)法律規範、宗教信仰 (B)宗教信仰、倫理道德 (C)法律規範、倫理道德 (D)風俗習慣、倫理道德。

男子與父親發生口角，竟衝動開著父親賓士車從後方將父親撞死。犯後悔意均流於形式，且母親過度溺愛，無法回歸家庭矯治行為，法院決定從重量刑，將他判處無期徒刑，褫奪公權終身。全案可上訴…

圖(十四)

40.在下列的敘述當中，何者是屬於『正式』的社會規範所規範的範圍？

(A)我和同學互相罵對方死娘炮 (B)阿姨在過年時給我一個紅包 (C)小儒不斷向上帝祈求自己可以中樂透頭獎 (D)班長打賭輸了自己罰站 5 分鐘。

41.過去政府禁止原住民社會使用母語，要求原住民縮短祭典時間，並視原住民傳統服飾為不雅的象徵，此現象顯示當時忽略下列哪一項文化交流的原則？ (A)了解與認同多元文化 (B)促進社會統整與共識 (C)發揮互助合作的精神 (D)尊重不同文化的特色。

42.在下表中，那一項是正確的？ (A)甲 (B)乙 (C)丙 (D)丁。

選 項	倫理道德、宗教、風俗習慣	法 律
(甲)制定過程	由立法院制定	在社會生活中自然形成
(乙)強制力	無	有
(丙)作用	規範人的外在行為	規範人的內在良心與外在行為
(丁)例子	恐嚇同學	打掃工作隨便

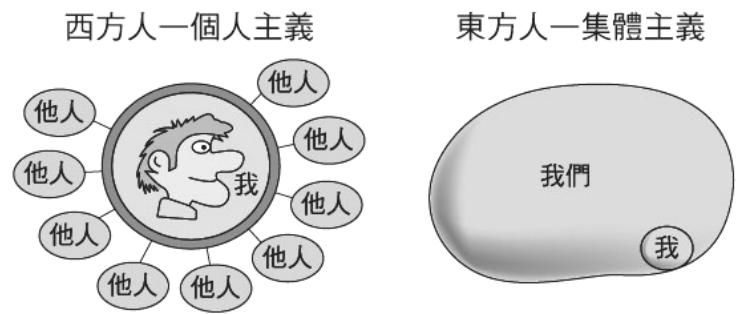
43.中元節搶孤活動從古延續至今，而搶孤長竿的設計更趨安全，活動的內容推陳出新，體驗到文化從傳統到現代，不斷地改造與創新。請問這說明了文化的何種性質？ (A)普遍性 (B)差異性 (C)約制性 (D)累積性。

- 44.就文化的內涵與結構而言，下列敘述何者是正確的？ (A)文化交流促進文化間的相互影響，使文化更加多元 (B)文化很少會隨著時代而改變 (C)當不同的文化透過各種方式交流後，很難看到許多不同文化並存的蹤跡 (D)時間不會造成文化的改變。

- 45.如右圖(十五)所示所表現的『第六倫』是指下列何者？

(A)法律倫理 (B)宗教倫理 (C)群己倫理 (D)科技倫理。

- 46.雲門舞集創始人林懷民，在接受美國現代舞蹈的訓練後，便將京劇、太極拳、書法等融入舞蹈創作，成功的將我國傳統文化帶上國際舞臺，依此敘述來看，林懷民主要是做到下列何者？ (A)文化創新 (B)文化失調 (C)社會規範 (D)文化對立。



圖(十五)

- 47.本土文化雖為目前的主流文化，但實際上在現有的臺灣文化中還包括了客家、原住民和眷村文化，以及外籍配偶的文化，可見臺灣文化充滿何種現象？ (A)復古性 (B)多元性 (C)創新性 (D)協調性。
- 48.孟子曾說：「不以規矩，不能成方圓。」在群體生活中，人與人之間互動非常頻繁，為了增進群體生活的和諧，讓社會更有秩序，為了使個人不能任意而為，因此發展出下列何者？ (A)社會規範 (B)社會團體 (C)社會文化 (D)社會問題。

題組：

高雄有 10 幾名國中生，都是一些同年齡的網友，深夜相約在公園、籃球場遊蕩，除了妨礙社區安寧之外，還疑似自己打電話報警，再跟警察捉迷藏，以此為樂，儘管多次被帶回警局勸導，還是無動於衷。少年們被帶回警局，他們全是因為凌晨 1 點多，在社區裡遊蕩，不回家，影響社區安寧被舉發。翻開勸導單，厚厚一大疊，警方只能一次又一次通知父母帶回加強勸導，校方也表示會輔導學生，多做一些有益的正當休閒，更期盼家長也能多多關懷孩子，不要讓他們深夜還跑出去遊蕩。

- 49.現代的青少年習慣用臉書、Line 等和朋友互動，這種聯絡工具是屬於文化的何種層次？ (A)法律層次 (B)器物層次 (C)制度層次 (D)理念層次。
- 50.現今社會中青少年喜歡使用臉書，和陌生網友相約見面遊樂，並且望追求自己的特色，這個年齡層所獨具的價值、行為、觀念態度與生活方式，稱為下列何者？ (A)社會主流文化 (B)社會流行文化 (C)青少年次文化 (D)青少年特殊文化。